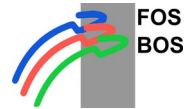


Name:



I. Halbjahr, 1. Schulaufgabe aus der Mathematik: Lösungsvorschlag

Datum: 2019-11-28
Zugelassene Hilfsmittel: Formelsammlung, Taschenrechner

Zeit: 65 min.
Klasse: BWV

BE

1.0 1.1 Berechnen Sie für $x := -2$ den Term: $x^4 = (-2)^4 = 16$ / 2

1.2 Schreiben Sie folgende Zahl in der Form b^n mit $n \neq 1$: $\frac{1}{4} = 4^{-1} = 2^{-2}$

2 Untenstehende Formeln/Aussagen sind entweder korrekt, oder enthalten jeweils einen kleinen formalen / inhaltlichen Fehler. / 5

Kreuzen Sie jeweils an, ob die Angabe korrekt / fehlerhaft ist und falls fehlerhaft, schreiben Sie im rechten Feld die entsprechende Stelle korrigiert hin.

Bewertung: je Aufgabe: 0 BE, falls nicht bearbeitet.

1 BE, falls richtig beantwortet,

bei „Nein“, aber nur mit richtiger Korrektur!

-1 BE in allen anderen Fällen.

Insgesamt:

nicht weniger als 0 BE.

Angabe	Korrekt		Korrektur
	Ja	Nein	
$\frac{1}{3} = 0,3333333333$	<input type="checkbox"/>	<input checked="" type="checkbox"/>	$\frac{1}{3} = 0,\bar{3}$
Funktion $f: \mathbb{R} \rightarrow \mathbb{R}, x \rightarrow 2x-1$	<input type="checkbox"/>	<input checked="" type="checkbox"/>	$f: \mathbb{R} \rightarrow \mathbb{R}, x \rightarrow 2x-1$
$2 \cdot -3 = -6$	<input type="checkbox"/>	<input checked="" type="checkbox"/>	$2 \cdot (-3) = -6$
Zwei nicht parallele Geraden G und H schneiden sich in einem Punkt $S = G \cap H$	<input type="checkbox"/>	<input checked="" type="checkbox"/>	$\{S\} = G \cap H$
Eine Funktion ist auch gleichzeitig eine Relation	<input checked="" type="checkbox"/>	<input type="checkbox"/>	<p><i>Relation:</i> „Beliebig vielen Elementen aus der Definitionsmenge können beliebig viele Elemente aus dem Bildbereich zugeordnet werden“</p> <p><i>Funktion:</i> „Jedem Element aus der Definitionsmenge wird genau ein Element aus dem Bildbereich zugeordnet“</p>

3 Geben Sie die Menge $P(\{a; b\})$ aller Teilmengen von $\{a; b\}$ in aufzählender Schreibweise an: / 2

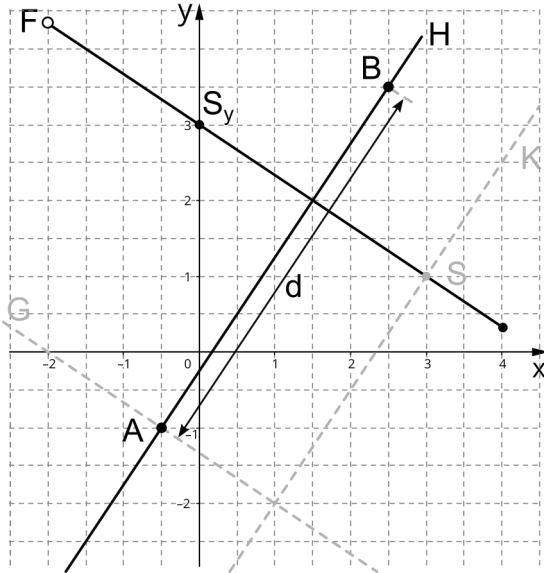
$$P(\{a; b\}) = \{ \{\}, \{a\}, \{b\}, \{a, b\} \}$$

4.0 Gegeben ist die Funktion $f :]-2; 4] \rightarrow \mathbb{R}, x \mapsto -\frac{2}{3}x + 3$.

Der Graph von f werde mit F bezeichnet.

4.1 Zeichnen Sie F in ein kartesisches Koordinatensystem.
Maßstab auf beiden Achsen: $1 \text{ LE} = 1 \text{ cm}$.

/ 3

Lösung:

4.2 Ermitteln Sie die Schnittpunkte S_x und S_y von F mit den Koordinatenachsen.

/ 3

Lösung:

Schnittpunkt mit y -Achse: $S_y(0, f(0)) = S_y(0, 3)$

Schnittpunkt mit x -Achse:

$$f(x) = 0 \Leftrightarrow -\frac{2}{3}x + 3 \stackrel{|\cdot(-\frac{3}{2})}{=} 0 \Leftrightarrow x - 4,5 \stackrel{|\cdot+4,5}{=} 0 \Leftrightarrow x = 4,5 \notin]-2; 4] \quad (!!!)$$

Somit existiert kein Schnittpunkt mit der x -Achse.

4.3 Der Graph G der linearen Funktion $g : \mathbb{R} \rightarrow \mathbb{R}$ ist parallel zu F und verläuft durch den Punkt $A(-0,5 | -1)$. Geben Sie einen möglichen Funktionsterm $g(x)$ an.

/ 2

$$\text{Lösung: } g(x) = -\frac{2}{3}(x+0,5) - 1 = -\frac{2}{3}x - \frac{1}{3} - 1 = -\frac{2}{3}x - \frac{4}{3} = -0,6\bar{6}x - 1,3$$

4.4 Bestimmen Sie einen Funktionsterm $h(x)$ der linearen Funktion $h : \mathbb{R} \rightarrow \mathbb{R}$, deren Graph H durch den Punkt $B(2,5 | 3,5)$ verläuft und senkrecht auf F steht. Zeichnen Sie H in das Koordinatensystem aus **4.1**.

/ 4

$$\text{Lösung: } H \perp F \Leftrightarrow m_f \cdot m_g = -1 \stackrel{m_f \neq 0}{\Leftrightarrow} m_g = -\frac{1}{m_f} = -\frac{1}{-\frac{2}{3}} = \frac{3}{2} = 1,5$$

$$\Rightarrow h(x) = 1,5(x - 2,5) + 3,5 = 1,5x - 3,75 + 3,5 = 1,5x - 0,25$$

4.5 Berechnen Sie den Abstand d der Punkte A und B aus den Aufgaben **4.3** und **4.4** auf 2 Stellen nach dem Komma.

/ 3

$$\text{Lösung: } d = \sqrt{(x_A - x_B)^2 + (y_A - y_B)^2} = \sqrt{(-0,5 - 2,5)^2 + (-1 - 3,5)^2} = \sqrt{29,25} \approx 5,41$$

4.6 Berechnen Sie den Schnittpunkt S von F und dem Graphen K der Funktion $k : 2y - 3x = -7, x, y \in \mathbb{R}$. / 3

Lösung:

$F \cap K: y = f(x)$ in k :

$$2 \cdot \underbrace{\left(-\frac{2}{3}x + 3\right)}_{= y = f(x)} - 3x = -7 \Leftrightarrow -\frac{4}{3}x + 6 - 3x = -7 \stackrel{|\cdot 3|}{\Leftrightarrow} -4x + 18 - 9x = -21$$

$$\Leftrightarrow -13x + 18 = -21 \stackrel{|\cdot 21| \quad | +13x|}{\Leftrightarrow} 13x = 39 \stackrel{|\cdot 13|}{\Leftrightarrow} x = 3 =: x_s$$

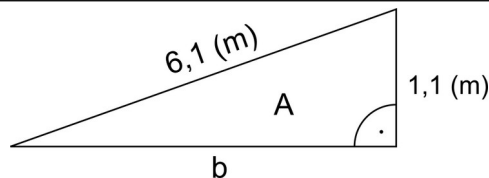
Alternativ: $2y - 3x = -7 \stackrel{|\cdot 3x|}{\Leftrightarrow} 2y = 3x - 7 \stackrel{|\cdot 2x|}{\Leftrightarrow} y = \frac{3}{2}x - \frac{7}{2} = 1,5x - 3,5 = k(x)$

$$F \cap K: f(x) = k(x) \Leftrightarrow -\frac{2}{3}x + 3 = \frac{3}{2}x - \frac{7}{2} \stackrel{|\cdot 6|}{\Leftrightarrow} -4x + 18 = 9x - 21 \stackrel{|\cdot 4x| \quad | +21|}{\Leftrightarrow} 13x = 39 \stackrel{|\cdot 13|}{\Leftrightarrow} x = 3 =: x_s$$

Somit: $y_s = f(x_s) = -\frac{2}{3} \cdot 3 + 3 = 1 \Rightarrow$ Schnittpunkt $S(3; 1)$

5 Aus einem Blech wie in nebenstehender - nicht maßstabsgerechter - Skizze soll eine Kräuterspirale gebogen werden. / 2

Berechnen Sie den Flächeninhalt A (in m^2) (zum Bestimmen der Kosten).



Lösung: $A = \frac{1}{2} \cdot b \cdot 1,1 = \frac{1}{2} \stackrel{\text{Pythagoras}}{=} \frac{1}{2} \cdot \sqrt{6,1^2 - 1,1^2} \cdot 1,1 = \frac{1}{2} \cdot 6 \cdot 1,1 = 3,3 (m^2)$

6.0 Von 29 Schülern (Grundmenge Ω) einer Vorklasse sind heute 17 mit dem Bus (B) und 12 mit dem Zug (Z) zur Schule gefahren. 9 Schüler nutzen dabei beides: Zug und Bus. / 5

Lösung:

	Z	\bar{Z}	
B	9	8	17
\bar{B}	3	9	12
	12	17	29

6.1 Wie viele Schüler sind nur mit dem Bus gefahren? Schreiben Sie diese Menge als Verknüpfung der Mengen B, Z und/oder Ω .

Lösung:

Nur mit dem Bus: $E_1 = B \setminus Z = B \cap \bar{Z} \Rightarrow |E_1| = 8$

6.2 Wie viele Schüler sind weder mit dem Bus noch mit dem Zug zur Schule gekommen? Schreiben Sie auch diese Menge als Verknüpfung der Mengen B, Z und/oder Ω .

Lösung:

Weder mit dem Bus noch mit dem Zug:
 $E_2 = \bar{B} \cap \bar{Z} = \bar{B} \cup \bar{Z} = \Omega \setminus (B \cup Z) \Rightarrow |E_2| = 9$